



UNIVERSIDAD DE CANTABRIA

PRUEBAS DE ACCESO A LA UNIVERSIDAD

LOE – JUNIO 2013

HISTORIA DEL ARTE

OPCIÓN DE EXAMEN Nº 1

PARTE I. Comente las dos obras presentadas. Calificación máxima 5 PUNTOS.


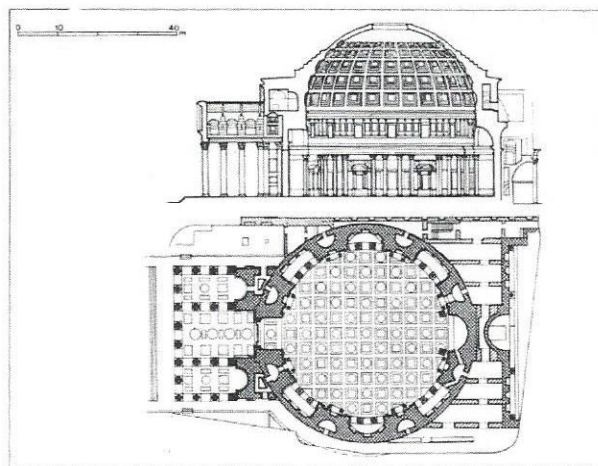


Fig. 1

Fig. 2



PARTE II. Comente el siguiente esquema arquitectónico. Calificación máxima 2 PUNTOS.



PARTE III. Responda a las tres preguntas planteadas. Calificación máxima 3 PUNTOS.

1. La columna, –un tipo de soporte–, fue usada por los romanos además con otro fin ¿Cuál?
2. Exponga tres características propias del Manierismo.
3. Origen y significado del término catedral.

OPCIÓN DE EXAMEN Nº 2

PARTE I. Comente las dos obras presentadas. Calificación máxima 5 PUNTOS.

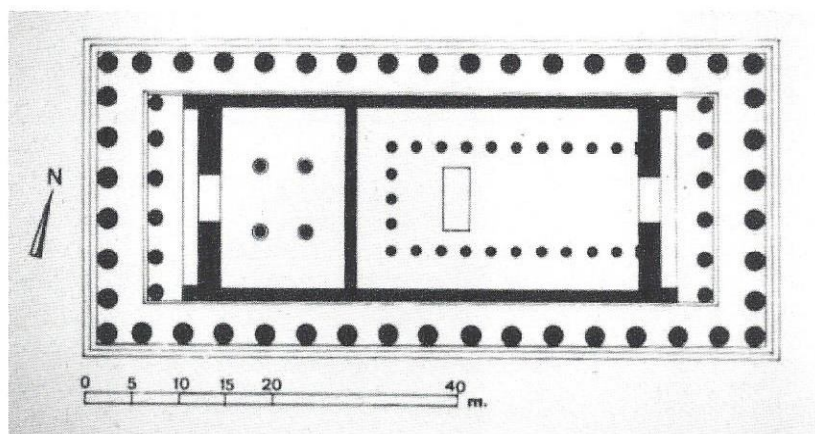
Fig. 1



Fig. 2



PARTE II. Comente el siguiente esquema arquitectónico. Calificación máxima 2 PUNTOS.



PARTE III. Responda a las tres preguntas planteadas. Calificación máxima 3 PUNTOS.

1. En terminología artística, ¿qué es un retablo y de qué partes consta?
2. ¿A qué estilo pertenece la Plaza de S. Pedro en El Vaticano y quién es su autor?
3. Explique las características del Cristo crucificado románico.